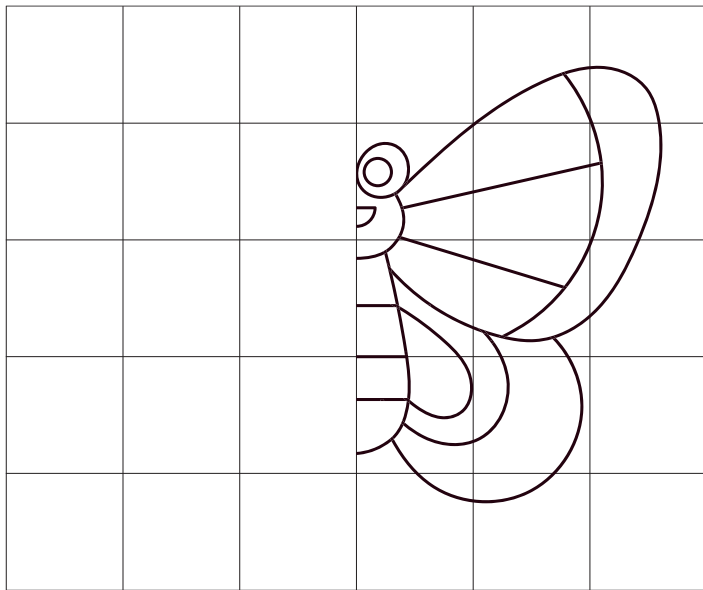


Complète le dessin du papillon par symétrie.



Établis la facture du repas.

+ = **10**

+ = **11**

+ = **8**

+ = **12**



Facture du repas :

= _____


= _____

= _____

= _____


Total de la facture : _____

Retrouve les noms des animaux dans la grille : cerf, lapin, ours, hérisson, loup, hibou, renard, écureuil




| | | | | | | | |
|---|---|---|---|---|---|---|---|
| D | Q | B | R | O | U | R | S |
| É | R | E | N | A | R | D | É |
| E | Z | H | B | S | X | P | É |
| I | U | É | L | O | U | P | C |
| C | E | R | F | P | L | R | U |
| S | J | I | H | L | H | M | R |
| F | K | S | A | A | I | S | E |
| G | U | S | B | P | B | N | U |
| O | V | O | C | I | O | T | I |
| A | P | N | W | N | U | Z | L |

Reproduis le dessin de l'abeille en suivant les étapes.



Combien comptes-tu de parapluies ?



Recopie le dessin de la baleine.

